



Apostila I

3º ano



Designed by pngtree

Escola Municipal _____

Aluno(a): _____

Professora: _____



COMPLETANDO PALAVRAS

USE AS SÍLABAS DO QUADRO ABAIXO PARA COMPLETAR AS PALAVRAS.



A__BADO

CE__LA

__MA

CA__SETA

__NELA

A__LHA

CA__LO

__RETA

__GUETE

SALA__

MA__

FA__

__REDE

__LHO

__ELHO

AN__NA

__ALHADA

__PEL

__MIDA

__ME

__SACO

PA__NHA

__SOURO

TER__METRO

__BUTICABA

PA__DAR

__LHA

A__GO

POMA__

__LEVISÃO

__DARIA

FOR__GA

MÚSI__

MA__RRÃO

PI__MA

__CADA

AL__FADA

__LEFONE

TU__NO



TRABALHANDO COM TIRINHAS



Copyright © 2002 Mauricio de Sousa Produções Ltda. Todos os direitos reservados.

6586

1- Este gênero textual é:

carta

tirinha

receita

fábula

2- Onde acontece a cena em que o Chico Bento está?

Na esquina da rua

Numa pracinha

Dentro de casa

Num sítio

3- O animal que está em questão neste diálogo é o

macaco

boi

cavalo

4- O assunto principal do texto é:

um passeio no sítio.

falta de conhecimento sobre o assunto de gado.


boi sem cabeça.

o exibimento do menino.

www.misturadealegria.blogspot.com



COLOQUE CADA FIGURA EM SUA ORDEM ALFABÉTICA



1	9	17
2	10	18
3	11	19
4	12	20
5	13	21
6	14	22
7	15	23
8	16	24

<https://www.educacaoetransformacao.com.br/atividades-com-ordem-alfabetica/>

TODOS CONTRA O CORONAVÍRUS, A PREVENÇÃO É FUNDAMENTAL!



O DRAGÃO TIÃO

TIÃO É UM DRAGÃO QUE MORA NA IMAGINAÇÃO DE JOÃO. VIVE LÁ ESCONDIDINHO, SEMPRE PRONTO PARA ATENDER O MENINO.

QUANDO CHAMADO EM PENSAMENTO PELO GAROTO, TIÃO APARECE MAJESTOSO NAS HISTÓRIAS QUE JOÃO CONTA AO IRMÃO SIMÃO.

O DRAGÃO PULA DE CENA EM CENA, FAZENDO A ALEGRIA DOS DOIS MOLEQUES.



QUESTÕES

1) QUAL É O TÍTULO DO TEXTO?

R: _____

2) QUANTOS PARÁGRAFOS HÁ NO TEXTO?

R: _____

3) QUAIS SÃO OS PERSONAGENS DA HISTÓRIA?

R: _____

4) QUEM É TIÃO?

R: _____

5) QUANDO TIÃO APARECE?

R: _____




○ Casamento na Mata

Hoje a mata está em festa
Todos estão a comemorar
Pois o pardal e a pardoca
Resolveram se casar

O padrinho e a madrinha
Foram o zangão e a abelha
Que vieram de carona
Com o carneiro e a ovelha

E todos os casais da mata
Até o bode e a cabra
Viraram a noite inteira
Dançando na festa animada.



Graça Batituci

- ◆ Colorir no texto os masculinos de vermelho e os femininos de azul.
- ◆ Leia as palavras do quadro abaixo e separe-as em dois grupos:

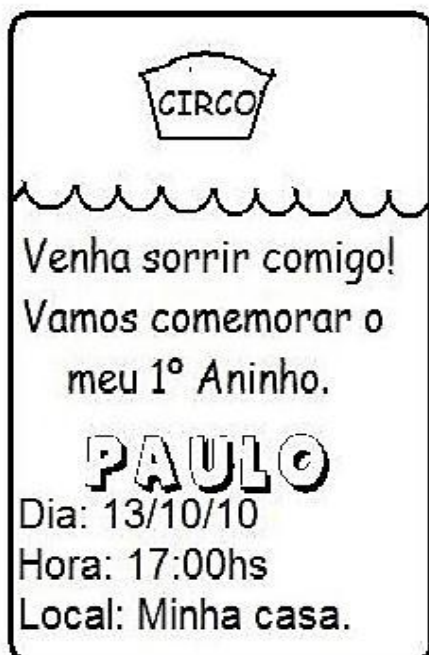
Carneiro	Leoa	Zangão	Leão
Bode	Égua	Coelho	Pardal
Ovelha	Cão	Pardoca	Abelha
Coelha	Cavalo	Cadela	Cabra

MASCULINOS

FEMININOS



Leia com atenção os exercícios e marque apenas a resposta certa:



1- Este texto é um:

BILHETE ANÚNCIO CONVITE

2- O assunto principal deste texto é:

- Festa de casamento.
 Festa de aniversário.
 Festa de batizado.
 Festa de 15 anos.

3- O tema desta festa é de:

MICKEY CIRCO TURMA DA MÔNICA

4- A festa vai acontecer:

A noite durante o dia a tarde

5- O convite é para comemorar o 1º aninho de Paulo ou seja:

1 ano de crescimento 1 ano de nascimento
 1 ano de alimento 1 ano de escola

6- Em um convite não pode faltar, EXCETO:

DIA HORA LOCAL PRESENTE



⇒ COMPLETE AS FRASES COM AS PALAVRAS ABAIXO:

A) A DO PALHAÇO É ENGRAÇADA.

B) O NOME DO PALHAÇO É .



C) PAÇOCA FAZ PALHAÇADA NA .

D) VOVÓ FEZ CAFÉ E COLOCOU .

E) MEU TÊNIS TEM .



F) O PAPAÍ GOSTA DE BEBER ÁGUA NA .

G) TODA -FEIRA PAÇOCA VAI À CIDADE.

H) O PALHAÇO USA LENÇO NO .



I) PAÇOCA AMA A .

J) O PALHAÇO PAÇOCA MORA NA .

PESCOÇO	CALÇA	CRIANÇADA
TAÇA	CADARÇO	AÇÚCAR
TERÇA	PRAÇA	PAÇOCA
ROÇA		

<https://br.pinterest.com/pin/588845719998633686/>



ORDENE AS FRASES

ARARA CANTA COLORIDA NA ÁRVORE A

ROEU QUEIJO RATINHO O TODO O

PETECA LINDA VITOR UMA FEZ COLORIDA

GOSTA GELATINA LILI MUITO DE



ENCONTRE OS NOMES DOS DESENHOS.



SA	TO	BO	LA	DE	RA	TO	LA
SA	PO	SA	PA	TO	CA	VO	NE
PO	CO	MI	DA	XI	RA	CA	FÉ
MO	VA	TI	SA	JI	BE	LA	NU

VAMOS FORMAR FRASES!





Substantivo próprio e comum

Complete o quadro abaixo:

Seu nome	
Sua escola	
Sua professora	
Sua cidade	
Seu Estado	
Seu bairro	
Sua cor preferida	
Um sentimento	
Uma palavra	
Um presente	
Um livro	

@Atividades Suzano

- No quadro acima, pinte os substantivos próprios de azul e de vermelho os comuns
- Crie, no caderno, um texto utilizando alguns dos substantivos do quadro.

Substantivo COMUM OU PRÓPRIO?

O substantivo comum se refere a seres ou coisas em geral e substantivo próprio se refere a seres ou coisas específicos.



comum	próprio
menino	André

comum	próprio
cidade	Curitiba



CAÇA-PALAVRAS "CH" E "X"

CHUVA
CHUTEIRA
BORRACHA
CACHORRO
RIACHO



BRUXA
CAIXA
AMEIXA
ABACAXI
BEXIGA

U	A	A	O	A	Z	R	C	G	G	D	F	C	Z	G
U	Z	P	O	O	R	I	A	C	H	O	Z	H	F	Q
Q	C	V	G	A	B	A	C	A	X	I	C	U	B	G
E	J	C	F	M	A	J	H	I	O	J	Z	T	R	A
U	E	A	U	B	E	F	O	X	H	K	Q	E	U	O
H	J	R	G	U	U	A	R	A	A	M	E	I	X	A
Ç	U	I	G	B	O	R	R	A	C	H	A	R	A	M
C	H	U	V	A	U	O	O	T	Ç	G	C	A	E	O
B	E	X	I	G	A	E	N	W	Ç	Q	U	A	M	I
O	N	G	O	I	Q	L	A	U	J	R	U	O	O	V

<https://br.pinterest.com/pin/608478599630636494/>



LEIA O TEXTO:

COZINHEIRO COCHICHOU
QUE HAVIA COZIDO
CHUCHU CHOCHO
NUM TACHO SUJO.



1. CIRCULE AS PALAVRAS NO TRAVA - LÍNGUAS.

A) A PRIMEIRA PALAVRA É:

B) A ÚLTIMA PALAVRA É:

2. O QUE O COZINHEIRO COZINHOU?

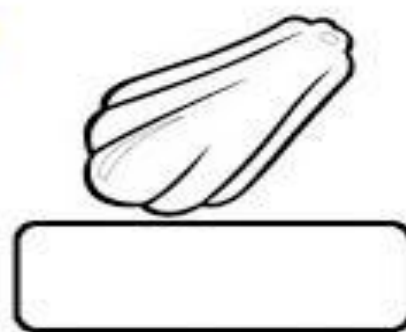
3. COMO O TACHO ESTAVA?

() CHOCO () SUJO () CHOCHO () SUCO

4. O CHUCHU ESTAVA:

() CHOCO () CHOCHO () SUJO


5. ESCREVA OS NOMES DOS DESENHOS:





PRODUÇÃO DE TEXTO

1) Observe a cena e continue a história. Dê um nome a cada criança e ao cãozinho. Não se esqueça do título.



Título: _____

Um dia, os irmãos _____ e _____
foram passear com o cãozinho _____.

Eles caminhavam felizes com seus balões, quando...

<https://pin.it/6006NmM>



ATIVIDADE DE ESCRITA

ESCREVA SEU NOME COMPLETO:

ESCREVA OS NOMES DAS IMAGENS:




OBSERVE A CENA E ESCREVA UMA FRASE SOBRE ELA.




<https://www.soescola.com/2017/06/prova-simulado-genero-textua.html>



JOGO DOS SETE ERROS



COLORIR.ORG




<https://colorir.org/wp-content/uploads/2017/01/jogos-dos-7-erros-da-turma-da-monica-49.png>

TODOS CONTRA O CORONAVÍRUS, A PREVENÇÃO É FUNDAMENTAL!



Treinando

1º dia	Domingo
2º dia	Segunda-feira
3º dia	Terça-feira
4º dia	Quarta-feira
5º dia	Quinta-feira
6º dia	Sexta-feira
7º dia	Sábado



Sugestões de Atividades

1. Qual é o primeiro dia da semana?

2. Qual é o último dia da semana?


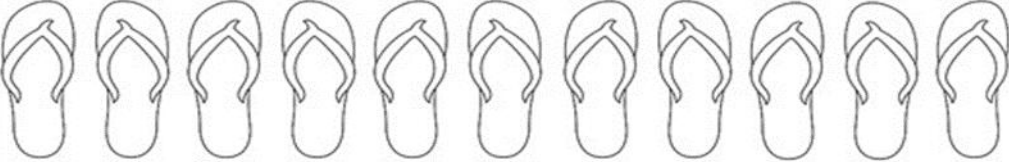





3. Que dia da semana é hoje?

4. Em que dia da semana será ou foi o seu aniversário este ano?

5. Em que dia da semana será o Natal este ano?



DESCUBRA SE A QUANTIDADE DE CADA SAPATO É
PAR OU ÍMPAR:


	
	
	
	
	
	
	



CIRCULE O NÚMERO QUE ESTÁ NO LUGAR ERRADO:




0	1	2	3	4	5	6	3	8	9
---	---	---	---	---	---	---	---	---	---



10	11	12	13	24	15	16	17	18	19
----	----	----	----	----	----	----	----	----	----



20	21	22	23	24	25	26	27	82	29
----	----	----	----	----	----	----	----	----	----




profrafaelak.blogspot.com


30	13	32	33	34	35	36	37	38	39
----	----	----	----	----	----	----	----	----	----



40	41	42	43	44	55	46	47	48	49
----	----	----	----	----	----	----	----	----	----







50	51	52	53	54	55	36	57	58	59
----	----	----	----	----	----	----	----	----	----



60	61	62	63	64	65	66	67	68	79
----	----	----	----	----	----	----	----	----	----



OBSERVE OS PREÇOS DOS PRODUTOS DA LANCHONETE DA ESCOLA:

<p>SUCO</p>  <p>R\$ 4</p>	<p>REFRIGERANTE</p>  <p>R\$ 5</p>	<p>PICOLÉ</p>  <p>R\$ 2</p>
<p>PIPOCA</p>  <p>R\$ 1</p>	<p>SANDUÍCHE</p>  <p>R\$ 4</p>	<p>BOLO</p>  <p>R\$ 3</p>


1. QUAL O PRODUTO MAIS CARO? 2. QUAL O PRODUTO MAIS BARATO?

3. QUAIS OS PRODUTOS CUSTAM O MESMO VALOR?

4. SE VOCÊ COMPRAR UM PICOLÉ E UMA FATIA DE BOLO,
QUANTO GASTARÁ?



PINTE CADA FORMA GEOMÉTRICA DE UMA COR DIFERENTE E REGISTRE A QUANTIDADE DE CADA UMA:



TRIÂNGULOS

RETÂNGULOS

QUADRADOS

CÍRCULOS

SITUAÇÃO PROBLEMA

MÔNICA LEU 5 GIBIS PELA MANHÃ E 7 GIBIS A TARDE. QUANTOS GIBIS ELA LEU NO TOTAL?


Dani Educator



CEBOLINHA E MÔNICA ESTÃO BRINCANDO JUNTOS. ELE TROUXE 3 CARRINHOS E ELA 2 BONECAS. QUANTOS BRINQUEDOS ELES TEM JUNTOS?



MÔNICA FOTOGRAFOU 5 BORBOLETAS GRANDES E CHEGARAM MAIS 4 BORBOLETAS PEQUENAS. QUANTAS BORBOLETAS VOAM AO TODO?



MAGALI ADORA SORVETE. ELA PEDIU 3 BOLAS NO SABOR DE CHOCOLATE E 4 DE MORANGO. QUANTAS BOLAS DE SORVETE ELA CHUPOU ?





ESCREVA OS NÚMEROS QUE ESTÃO FALTANDO:

0	1	2			5				9
10	11			14				18	
20	21	22			25				29
30		32					37		
40	41			44				48	
50		52				56			
60			63		65				
70	71						77	78	
80		82							89
90	91								99





SECRETARIA MUNICIPAL DE EDUCAÇÃO E CULTURA

Leia e resolva as situações-problema abaixo:

Havia um grupo de 8 abelhas. Duas foram embora. Quantas ficaram para trás?

Desenho:



Operação:

Resposta:

Ficaram para trás
..... abelhas.

O vovô João estava com 9 balões na mão mas 4 voaram. Quantos restaram?

Desenho:



Operação:

Resposta:

Restaram
balões.

Ythalo tinha 7 bolinhas. Perdeu 2. Com quantas ele ficou?

Desenho:




Operação:

Resposta:

Ythalo ficou com
..... bolinhas.

Havia 5 pipas no ar. Uma arrebentou alinha. Quantas restaram?

Desenho:



Operação:

Resposta:

Restaram
pipas.

Havia 5 borboletas na flor. Duas voaram. Quantas restaram?

Desenho:



Operação:

Resposta:

Restaram
borboletas.

O ursinho Lucas tinha 4 balões. Estouraram 2 balões. Quantos restaram?

Desenho:



Operação:

Resposta:


Restaram
balões.

<https://br.pinterest.com/pin/606719381021617623/?>

TODOS CONTRA O CORONAVÍRUS, A PREVENÇÃO É FUNDAMENTAL!



PINTE COM A MESMA COR AS FORMAS IGUAIS E DEPOIS
REGISTRE A QUANTIDADE DE CADA UMA:



TRIÂNGULO	
CÍRCULO	
QUADRADO	
RETÂNGULO	





1)
$$\begin{array}{r} 85 \\ - 22 \\ \hline \end{array}$$

2)
$$\begin{array}{r} 74 \\ - 20 \\ \hline \end{array}$$

3)
$$\begin{array}{r} 93 \\ - 62 \\ \hline \end{array}$$

4)
$$\begin{array}{r} 78 \\ - 14 \\ \hline \end{array}$$

5)
$$\begin{array}{r} 86 \\ - 40 \\ \hline \end{array}$$

6)
$$\begin{array}{r} 70 \\ - 20 \\ \hline \end{array}$$

7)
$$\begin{array}{r} 88 \\ - 52 \\ \hline \end{array}$$

8)
$$\begin{array}{r} 65 \\ - 41 \\ \hline \end{array}$$

9)
$$\begin{array}{r} 76 \\ - 33 \\ \hline \end{array}$$

10)
$$\begin{array}{r} 59 \\ - 21 \\ \hline \end{array}$$

11)
$$\begin{array}{r} 78 \\ - 50 \\ \hline \end{array}$$

12)
$$\begin{array}{r} 37 \\ - 26 \\ \hline \end{array}$$

13)
$$\begin{array}{r} 57 \\ - 11 \\ \hline \end{array}$$

14)
$$\begin{array}{r} 98 \\ - 86 \\ \hline \end{array}$$

15)
$$\begin{array}{r} 83 \\ - 32 \\ \hline \end{array}$$

16)
$$\begin{array}{r} 49 \\ - 18 \\ \hline \end{array}$$

17)
$$\begin{array}{r} 70 \\ - 50 \\ \hline \end{array}$$

18)
$$\begin{array}{r} 79 \\ - 47 \\ \hline \end{array}$$


19)
$$\begin{array}{r} 87 \\ - 73 \\ \hline \end{array}$$

20)
$$\begin{array}{r} 59 \\ - 15 \\ \hline \end{array}$$



COMPLETE A SEQUÊNCIA

Complete a sequência numérica com o número que falta: antes, entre e depois.



Antes

___ 13
___ 21
___ 35
___ 7
___ 67
___ 87
___ 36
___ 27
___ 73
___ 19

Entre

42 ___ 44
41 ___ 43
19 ___ 21
57 ___ 59
23 ___ 25
35 ___ 37
29 ___ 31
47 ___ 49
69 ___ 71
34 ___ 36

Depois

88 ___
33 ___
66 ___
89 ___
53 ___
16 ___
58 ___
49 ___
59 ___
79 ___

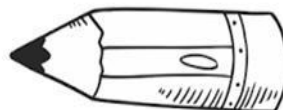


Resolva os problemas.



CÁLCULOS

No início do ano letivo a mãe de Priscila comprou para ela 17 lápis, se ela perdeu 5 lápis. Quantos lápis ela tem agora?



Lucas tem 11 anos, e um irmão mais novo que ele 3 anos. Quantos anos o irmão de Lucas tem?



Camila tem um aquário. Ela compra um peixe novo a cada novo mês do ano. Quantos anos ela levará para ter 36 peixes?





CRUZA ADIÇÃO

Resolva as adições e complete a cruzadinha:

A ↓

□
□
□

C ↓ **E** ↓ **G** ↓

□	□	□
□	□	□

□	□	□
□	□	□

B → **F** → **H** ↓

□	□	□
□	□	□

□
□
□

I ↓

□	□	□
---	---	---



C	D	U
1	2	4
+2	5	1

C	D	U
2	3	5
+4	1	3

C	D	U
5	2	6
+4	0	2

C	D	U
8	4	6
+1	2	1

C	D	U
6	4	2
+1	0	4

C	D	U
2	0	4
+4	3	5

--

C	D	U
7	2	4
+1	3	5

C	D	U
1	2	4
+4	6	1

C	D	U
2	4	3
+5	3	2



Analise a tabela abaixo:

Mochila 48 reais

Estojo 9 reais

Lapiseira 6 reais

Caderno 16 reais

Lápis 1 real

a) Qual o produto mais barato?

b) Qual o produto mais caro?

c) Qual o valor da mochila mais o estojo?

d) Quanto gastarei se comprar um caderno e uma lapiseira?

e) Qual o valor total dos materiais?

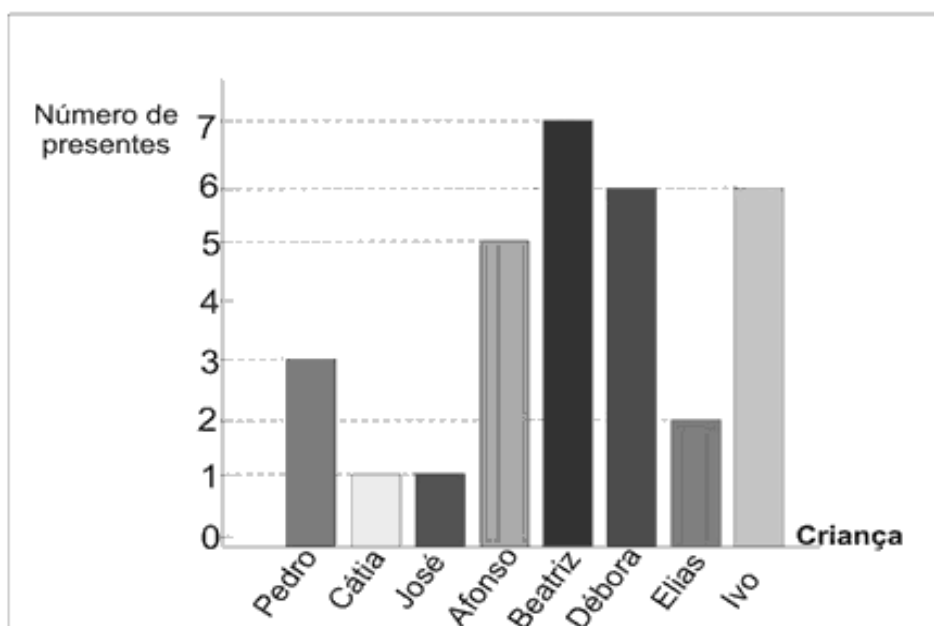
f) O que posso comprar com R\$ 30,00?

g) Tenho R\$ 20,00, quanto me sobra de troco se eu comprar um estojo e um lápis?



Atividade

1. O gráfico corresponde ao número de presentes que cada criança ganhou no Natal do ano passado. Observe - o e responda as questões.



a) Qual criança ganhou mais presentes?

b) Quais crianças ganharam menos presentes?

c) Quantos presentes Beatriz e Ivo ganharam juntos?

d) Quais crianças ganharam a mesma quantidade de presentes?

e) Em seu caderno reconstrua o gráfico acima acrescentando o número de presentes que você quer ganhar neste Natal.





SECRETARIA MUNICIPAL DE EDUCAÇÃO E CULTURA

TODOS CONTRA O CORONAVÍRUS, A PREVENÇÃO É FUNDAMENTAL!